



# ПОДГОТОВКА К ИЗУЧЕНИЮ ЧИСЕЛ

Проверочная работа 1

Вариант 1


- 1** Каких рисунков больше:  или  ?  
Узнай это, соединяя линией рисунки попарно, как показано на образце. Нарисуй ответ:

Образец:




- 2** Нарисуй:

на 1 больше



столько же



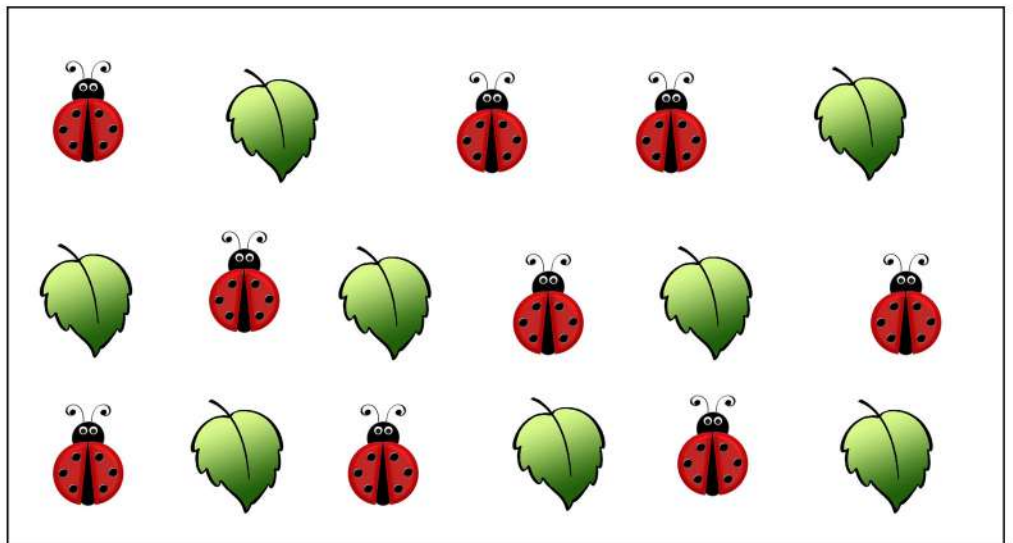

# ПОДГОТОВКА К ИЗУЧЕНИЮ ЧИСЕЛ

Проверочная работа 1

Вариант 2


- 1** Каких рисунков больше:  или  ?  
Узнай это, соединяя линией рисунки попарно, как показано на образце. Нарисуй ответ:

Образец:

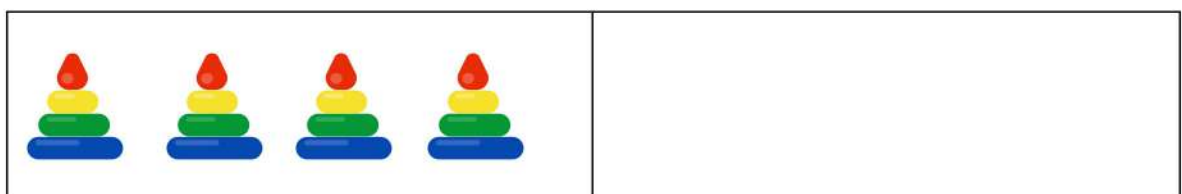


- 2** Нарисуй:

на 1 меньше



столько же




# ПОДГОТОВКА К ИЗУЧЕНИЮ ЧИСЕЛ


Проверочная работа 2

Вариант 1


- 1** Нарисуй:  
кругов и точек столько же, сколько листочков;



ёлочек и квадратов столько же, сколько точек.



- 2** Нарисуй:  
в правом верхнем прямоугольнике два круга;  
в левом нижнем прямоугольнике три квадрата;  
в правом нижнем прямоугольнике треугольник.




# ПОДГОТОВКА К ИЗУЧЕНИЮ ЧИСЕЛ

Проверочная работа 2

Вариант 2

- 1** Нарисуй:  
кругов и точек столько же, сколько грибов;



яблок и квадратов столько же, сколько точек.



- 2** Нарисуй:  
в левом верхнем прямоугольнике три листочка;  
в правом верхнем прямоугольнике два квадрата;  
в левом нижнем прямоугольнике дерево.

