


Задачи на сложение-вычитание в пределах 20.


1. Поезд прибыл на станцию в 14 часов 19 минут, а должен был согласно расписанию прибыть в 14 часов 14 минут. На сколько минут поезд опоздал?



2. Витя на школьном турнире по шашкам выиграл в 6 партиях, а проиграл в 3. Сколько партий Витя сыграл вничью, если всего он сыграл 12 раз.



3. Гусь весит 9 кг, а курица на 7 кг меньше. Сколько весят курица и гусь вместе?



4. Бабушка собрала урожай огурцов. Старшей дочери она отвезла 2 ведра огурцов, младшей столько же, а сыну - 3 ведра огурцов. Сколько всего ведер огурцов бабушка отвезла детям?




9. У Ани есть старшая сестра Юля и младший брат Толя. Толе 5 лет. Аня старше его на 3 года. А Юля старше Толи на 8 лет. На сколько лет Аня младше Юли?

A 10x6 grid of light blue lines on a white background, intended for writing the solution to the first problem.


10. На салат пошло 6 огурцов, 5 помидоров и редисок столько, сколько огурцов и помидоров вместе. Сколько всего овощей пошло на салат?

A 10x6 grid of light blue lines on a white background, intended for writing the solution to the second problem.


5. У белки в дупле заготовлены на зиму грибы и орехи. Грибов белка заготовила 86 штук, а орехов всего 4 штуки. Во сколько раз больше белка заготовила грибов, чем орехов?




6. Расстояние от глаз телевизора до экрана телевизора должна быть в 4 раза больше, чем диагональ экрана. каким должно быть это расстояние, если диагональ экрана равна 36 см?




7. Акула за 10 минут проплывает 1 000 м. Какое расстояние она проплывает за 1 минуту?




8. Заяц за час может пробежать 60 км, а волк на 15 км меньше. какое расстояние может пробежать волк за 1 час?



9. Миша каждый день решал по 5 математических задач. Сколько задач Миша решил за неделю?

A grid consisting of 15 columns and 6 rows, intended for writing the answer to question 9.

10. В магазине в понедельник продали 26 сказок Пушкина, а во вторник в 2 раза меньше. Сколько сказок было всего продано за 2 дня?

A grid consisting of 15 columns and 6 rows, intended for writing the answer to question 10.